


JEZERO LAKA

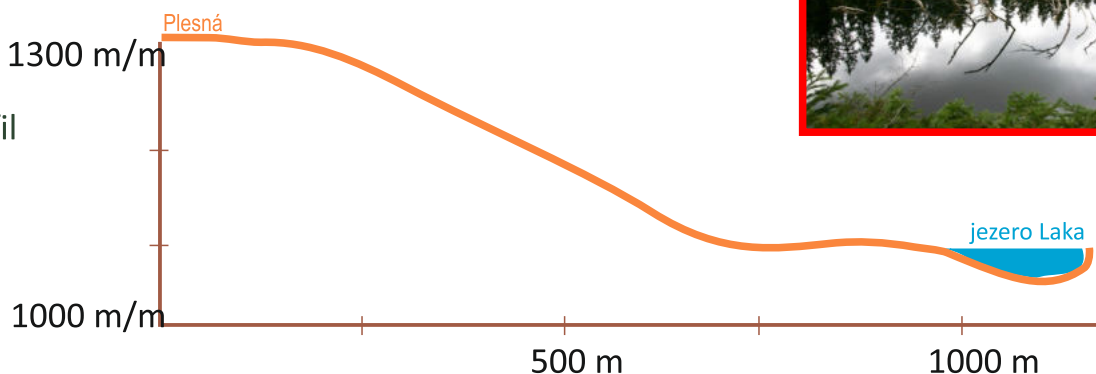
Jezero Laka je typické plovoucími ostrůvky, jak tyto ostrůvky vznikají?

Z materiálu přinášeným dvěma potůčky.

Náplavy ze zbytků stromů a větví se odtrhnou od břehu.



Domaluj profil jezerní stěny.



I jezero Laka má svá „nej“.
Zakroužkujte všechny správné charakteristiky.

největší

nejvýše položené

nejmenší

nejhlubší

nejmělčí

nejníže položené



Pod jakou horou se jezero nachází?

Plesná - 1336,6 m n. m....

Jak velká je plocha jezera Laka?

2,78 ha

V jaké nadmořské výšce leží jezero Laka?


1096 m n. m.

Jaká je jeho maximální hloubka?

3,9 m

Co v minulosti způsobilo navýšení hladiny vody v jezeře?

Umělé zvýšení hráze v minulém století.






Do které řeky je jezero Laka odvodňováno?

.....**Křemelná**.....

Jaké lesy rostly kolem jezera v minulosti a jaké zde rostou dnes?



**Dříve - kyselé horské bučiny, v blízkosti jezera
podmáčené smrčiny. Dnes - převážně smrkové lesy.**

Přiřaďte k rostlinám a živočichům jejich názvy.



Určete, zda jsou tato tvrzení pravdivá. Zakroužkujte správnou odpověď.

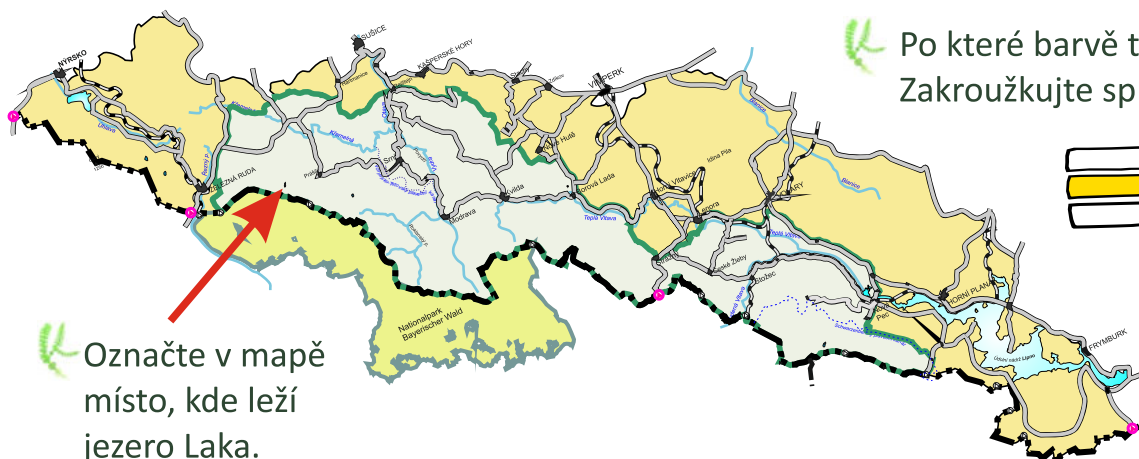
ANO - **NE** Jezerní stěna se prudce svažuje do jezera.

ANO - NE Na rašelinném bezlesí roste rosnatka okrouhlolistá.

ANO - **NE** Jezero Laka neleží v I. zóně NP Šumava.

ANO - NE Povodí jezera Laka je značně rozsáhlé, a proto zde docházelo k intenzivnímu zazemňování jezerního dna a zarůstání břehů.

ANO - **NE** Jezero Laka se nikdy nevyužívalo k plavení dřeva.



Po které barvě turistické trasy jste šli?
Zakroužkujte správnou odpověď.



Označte v mapě místo, kde leží jezero Laka.